

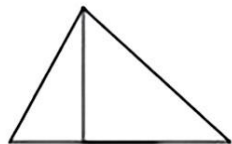
一年级数学下册课内每日计算小纸条

姓名_____班级_____

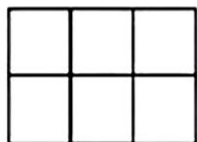
一、口算题

$18-9=$	$16+5=$	$23-7=$	$21+8=$	$10-9+9=$	$1+6+8=$
$13-4=$	$15-6=$	$4+24=$	$6+5=$	$7+7+9=$	$4+()=13$

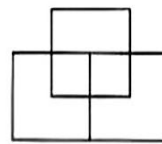
二、填空题



有()个三角形



有()个正方形



有()个正方形

三、思维训练题

小平家距学校 2 千米，一次他上学走了 1 千米，想起忘带铅笔盒，又回家去取。这次他到学校共走了多少千米？

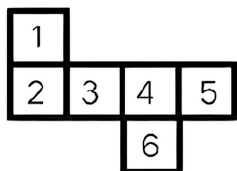
一年级数学下册课内每日计算小纸条

姓名_____班级_____

一、口算题

$6+8=$	$5+9=$	$4+11=$	$12-9=$	$20-5=$	$49-()=9$
$2+7=$	$6-5=$	$15+3=$	$16-4=$	$6+()=66$	$()+20=20$

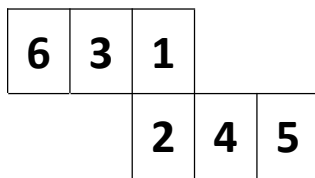
二、填空题



1的对面是 ()

2的对面是 ()

3的对面是 ()



1的对面是 ()

3的对面是 ()

三、思维训练题

小华有 10 个红气球，小花有 8 个黄气球。小华用 4 个红气球换小花 3 个黄气球，现在小华、小花各有几个球？

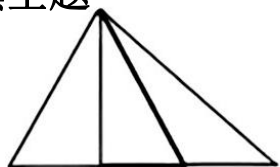
一年级数学下册课内每日计算小纸条

姓名_____班级_____

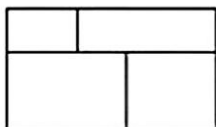
一、口算题

$$\begin{array}{cccccc} 3+15= & 20-11= & 9-8= & 16-13= & 10+5= & 12+6= \\ 11+5= & 15-4= & 11+9= & 20-3= & 15-()=10 & ()+6=18 \end{array}$$

二、填空题



有（ ）三角形



有（ ）个长方形

有（ ）正方形

三、思维训练题

有一本书，小华第一天看了 2 页，以后每一天都比前一天多看 2 页，第 4 天看了多少页？

一年级数学下册课内每日计算小纸条

姓名_____班级_____

一、口算题

$$\begin{array}{cccccc} 3+6= & 13+4= & 17-2= & 19-10= & 6-5= & 11-10= \\ 5+11= & 16-11= & 12+6= & 11+7= & 20-6= & 9-()=9 \end{array}$$

二、填空题

1、最大的两位数是_____，最大的一位数是_____，他们的差是_____。

2、用数字2、3、4组成_____个不同的两位数，其中最大的两位数和最小的两位数的差是_____。

3、_____个十是80，再添上_____个十和_____个一就是93。

三、思维训练题

王老师做了些花奖励给明明和冬冬，明明得到16 朵，冬冬得到的是明明的一半，王老师一共做了多少朵花？

一年级数学下册课内每日计算小纸条

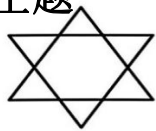
姓名_____班级_____

一、口算题

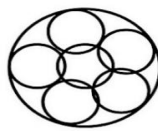
$$\begin{array}{cccccc} 9+8= & 7-5= & 20-9= & 2+14= & 9+9= & 4+6= \\ 8+12= & 8+10= & 13-2= & 9-()=7 & ()-11=6 & ()+5=17 \end{array}$$

二、填空题

1、



()个三角形



()个圆形

2、如果 $\triangle=10$, $\star=9$, $\square=11$, 那么:

$$\triangle+\square=() \quad \star+\square=() \quad \triangle+\star=()$$

三、思维训练题

小红有 15 本书, 小东有 5 本书, 小红给小东多少本书, 两个人的书就同样多?

一年级数学下册课内每日计算小纸条

姓名_____班级_____

一、口算题

$$\begin{array}{cccccc} 17-5= & 10-3= & 15+3= & 16-2= & 6+10-6= & 16-6+3= \\ 9+10= & 16-4= & 12-4= & 16-7= & ()-3=17 & 20-()=3 \end{array}$$

二、填空题

1、一个数在70和80之间, 个位上的数比十位上的数多2, 这个数是_____。

2、写出三个十位上是8的数: _____; _____; _____。

3、括号里最大能填几: $20>7+()$ $5<14-()$ $7+()<19$

三、思维训练题

小朋友做操, 从前往后数我是第 11个, 从后往前数我是第7个, 一共有多少人做操?

一年级数学下册课内每日计算小纸条

姓名_____班级_____

一、口算题

$$\begin{array}{llllll} 13+9= & 10-3= & 10+4= & 7-2= & 1+6+5= & 8+0+12= \\ 13+4= & 20-8= & 7+8= & 10+10= & 16-(2+8)= & 2+5+13= \end{array}$$

二、填空题

1、4、在12、15、17、8、20、13、16、5、0这9个数中,最小的是(),最大是()。从左边数起第3个是(),第6个是(),从右边数起第2个是(),第8个是()。

2、如果 $\triangle + \triangle = 10$ $\bigcirc + \triangle = 18$
那么 $\bigcirc = (\quad)$ $\triangle = (\quad)$

三、思维训练题

阳阳参加一个书法比赛。一共有 28 个小朋友参赛,阳阳要和参赛的每个小朋友都握一次手,一共要握多少次手?

一年级数学下册课内每日计算小纸条

姓名_____班级_____

一、口算题

$$\begin{array}{llllll} 9+11= & 10-5= & 17-10= & 2+14= & 9+4-1= & 7-4+9= \\ 8+10= & 8+3= & 13-9= & 9-(\quad)=7 & (\quad)-11=6 & (\quad)+6=18 \end{array}$$

三、填空题

1、如果 $\star + 7 = 16$ $\triangle + \star = 20$
那么 $\star = (\quad)$ $\triangle = (\quad)$

2、在○里填上<、>或=。

$$\begin{array}{lll} 17-\triangle=13 & 17-\square=12 & \triangle \bigcirc \square \\ \triangle-\star=10 & \square-\star=8 & \triangle \bigcirc \square \end{array}$$

三、思维训练题

11名男生站成一排,老师要求每两名男生中间站一名女生。算一算,女生站进去后,一共有多少名学生?

一年级数学下册课内每日计算小纸条

姓名_____班级_____

一、口算题

$$\begin{array}{cccccc} 16-6= & 11-6= & 8+2= & 9-7= & 3+5+11= & 19-6+7= \\ 10+3= & 7+5= & 1+18= & 14+5= & 20-10+10= & 9-(\quad)=9 \end{array}$$

二、填空题

1、括号里最大能填几： $20 > (\quad) + 2$ $2 < 14 - (\quad)$ $19 > (\quad) + 7$

2、 $\triangle - \star = 6$ $\bigcirc - \triangle = 1$ $\triangle + \triangle = 4$
 $\star = (\quad)$ $\bigcirc = (\quad)$ $\triangle = (\quad)$

3、按规律填数字：

1、 (\quad) 、6、9、12、 (\quad) (\quad)
2、 (\quad) 11、9、 (\quad) (\quad) (\quad)

三、思维训练题

衣服正面有4个扣子，一个袖子上有2个扣子，这件衣服上有多少个扣子？

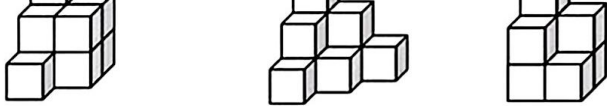
一年级数学下册课内每日计算小纸条

姓名_____班级_____

一、口算题

$$\begin{array}{cccccc} 16-6= & 20-6= & 11+2= & 5-5= & 13+5+3= & 9-6+8= \\ 10+2= & 7+5= & 1+13= & 14+5= & 20-6+10= & 9-(\quad)=6 \end{array}$$

三、填空题

1、
 (\quad) 个 (\quad) 个 (\quad) 个

2、11、8、1、15、19这几个数中， (\quad) 最大的数， (\quad) 是最小的数。

3、2、从第9个数字到第20个数字，一共有 (\quad) 个数字。

三、思维训练题

把3、4、5、6、7、8、9、10分别填入 (\quad) 内(每个数字都要用一次)。

$$(\quad) + (\quad) - (\quad) = (\quad)$$

$$(\quad) + (\quad) = (\quad) - (\quad)$$

一年级数学下册课内每日计算小纸条

姓名_____班级_____

一、口算题

$13-5+8=$

$13-5+9=$

$9+4+2=$

$11+1+5=$

$6+3+3=$

$7-4+6=$

$10+5+5=$

$12+6+3=$

$9+9-1=$

$7+1+7=$

$9+2-7=$

$6+4+7=$

$7-4+8=$


$3+4+7=$

$4-1+7=$


二、填空题



_____:



_____:



_____:

三、思维训练题

去看电影，进了电影院后对号坐下，正数我坐13排，倒数还是13排。这个电影院座位有多少排？

一年级数学下册课内每日计算小纸条

姓名_____班级_____

一、口算题

$1+17=$

$2+8=$

$13-4=$

$19-4=$

$16-3=$

$15+3=$

$12+5=$

$8+4=$

$19+0=$

$19-6=$

$13+5=$

$16-3=$

$17-7=$

$16-8=$

二、填空题

$5 \bigcirc 14-5 (>、<或=)$

$16-4 \bigcirc 12 (>、<或=)$



$14-7 \bigcirc 12 (>、<或=)$

$6+5 \bigcirc 15 (>、<或=)$

$5+5 \bigcirc 11 (>、<或=)$

$2+3 \bigcirc 5 (>、<或=)$

三、思维训练题

这盒巧克力8元，玲玲给了售货员阿姨一张, 售货员阿姨应找给玲玲

多少钱?豆豆给了售货员阿姨一张, 售货员阿姨应找给豆豆多少钱?

一年级数学下册课内每日计算小纸条

姓名_____班级_____


一、口算题

$$\begin{array}{ccccccc} 13-3= & 2+6= & 20-2= & 18-9= & 19-7= & 7+10= & 6+8= \\ 15+2= & 9+10= & 12-3= & 13+4= & 3-3= & 6+10= & 17-10= \end{array}$$

二、填空题

- 1、请试一试，一根绳子剪一刀，可以剪成()段；如果剪四刀，可以剪成()段。
- 2、同学们排队做操，小丽站在小华前面，小丽站在小刚后面，这三人中()站在最前面，()站在最后面，()站在中间。
- 3、有15个同学排队，芳芳后面有8人，芳芳前面有()人。

三、思维训练题

商店上午卖了30个，下午又卖了6个，一天一共卖了多少个？

一年级数学下册课内每日计算小纸条

姓名_____班级_____

一、口算题

$$\begin{array}{ccccccc} 13-11-1= & 3+9= & 11-5= & 13+5= & 14+6= & 9-6-5= & 7+13-6= \\ 12-7+5= & 15-6= & 12+4= & 16+9= & 19+0= & 11-2+10= & 5-4+3= \end{array}$$

二、填空题

- 1、 $\bigcirc + \triangle = 12$ $\triangle + \star = 16$ $0 + \triangle + \star = 18$
 $\bigcirc = (\quad)$ $\triangle = (\quad)$ $\star = (\quad)$

- 2、小明今年3岁，花花今年7岁，花花比小明大()岁。

三、思维训练题

我拿了 35 根跳绳，发给我们班同学，每人发一根还少 7 根。我们班有多少人？

一年级数学下册课内每日计算小纸条

姓名_____班级_____

一、口算题

$4+2+7=$

$9+3-6=$

$8-4+8=$

$10-3+5=$

$10+4+3=$

$13-9+6=$

$2+13-7=$

$37+8-8=$







$79+4-1=$

$17-4+1=$

$7+12-4=$

$8+11-7=$

二、填空题

水果						
原有	11	15	12	17	13	
卖出	5	7			9	4
还剩			3	9		12

三、思维训练题

草地上有 4 只小兔子吃草，有11 只兔子跑步。跑步的兔子比吃草的兔子多几只？

一年级数学下册课内每日计算小纸条

姓名_____班级_____

一、口算题

$15+3-3=$

$3+12+3=$

$9-4+12=$

$10-2+4=$

$10-4+12=$

$12+6-7=$

$10-4+4=$

$3+1+6=$

$5-5+7=$

$8+11-7=$

$5-1+9=$

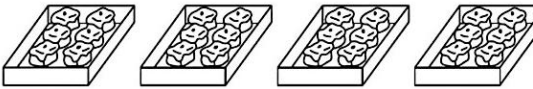
$23+5-9=$

二、填空题



三、思维训练题

6个蛋糕装一盒，装了 4盒。如果 4 个装一盒，可以装几盒?(4分)



一年级数学下册课内每日计算小纸条

姓名_____班级_____

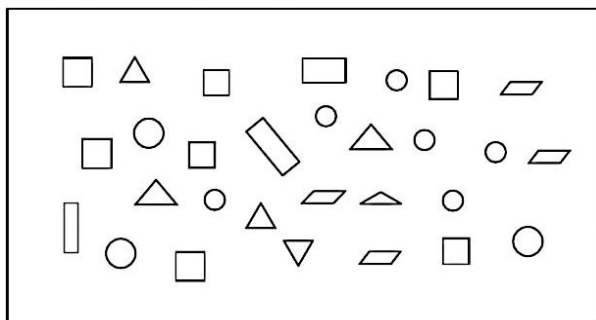
一、口算题

$17+10-3=$	$5+4-7=$	$19-12-1=$	$7-2+10=$	$2+11+7=$	$10+8-8=$
$4+12+3=$	$8+5-9=$	$17+2-3=$	$10+10-4=$	$7+7-3=$	$9+13-4=$

二、填空题

$12-7\bigcirc5$	$14-9\bigcirc4$	$17-8\bigcirc10$	$14-6\bigcirc4$
$11-5\bigcirc7$	$16-8\bigcirc8$	$11-2\bigcirc8$	$13-5\bigcirc6$

三、思维训练题



长方形 () 个
正方形 () 个
三角形 () 个
圆 () 个
平行四边形 () 个

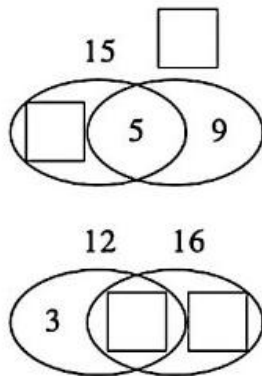
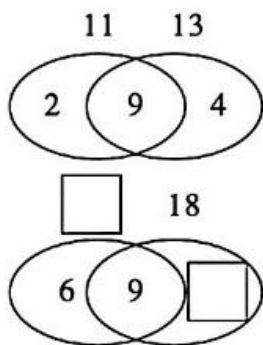
一年级数学下册课内每日计算小纸条

姓名_____班级_____

一、口算题

$()+8=48$	$()-3=8$	$16-()=14$	$()+40=91$	$18+()=28$
$31-()=9$	$1+()=47$	$()+8=79$	$()+61=79$	$26+()=36$

二、找规律，填一填



三、思维训练题

丽丽要洗 12 个碗，已经洗好了9个碗。还有几个碗没有洗好?(4分)

$\square \bigcirc \square = \square$ (个)

一年级数学下册课内每日计算小纸条

姓名_____班级_____

一、口算题

$$\begin{array}{llllll} 40+8= & 16-7= & 13-8= & 8+()=78 & 30+()=38 \\ 19-10= & 15-6= & 28-8= & ()+7=57 & ()+4=44 \\ 40+()=48 & 90=99-() & 56=()+50 & ()-7=30 \end{array}$$

二、填空题

$$\begin{array}{ll} 5\text{元}=()\text{角} & 3\text{角}=()\text{分} \\ 23\text{角}=()\text{元}()\text{角} & 52\text{角}=()\text{元}()\text{角} \\ 6\text{元}3\text{角}=()\text{角} & 2\text{元}7\text{角}=()\text{角} \end{array}$$

三、思维训练题

一个水果批发店有50箱苹果，第一天卖了 30 箱，如果再有人要 30 箱，够吗？
如果不够还差多少箱？

一年级数学下册课内每日计算小纸条

姓名_____班级_____

一、口算题

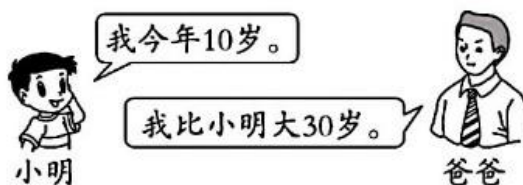
$$\begin{array}{llllll} 9+20= & 5+30= & 89-80= & 65-7= & 36+8= & 25+8= \\ 50+6= & 46-9= & 97-60= & 40+9= & 17+6= & 60+8= \\ 43-8-13= & 50+27-9= & 62-60+80= & 44+50-9= \end{array}$$

二、填空题

- 1元=()角=()分。
- 个位上是5，十位上是6，这个数是()。
- 100 里面有()个十，有()个一。
- 一个两位数，个位上的数比十位上的数大 5，这个两位数是()、()、()、()。

三、思维训练题

你知道 10 年后，小明的爸爸多少岁吗？



一年级数学下册课内每日计算小纸条

姓名_____班级_____

一、口算题

$30+45-9=$

$56-8+20=$

$44+50-9=$

$8+(\quad)=60$

$(\quad)-20=63$

$80+(\quad)=92$

$60+(\quad)=75$

$35-(\quad)=35$

$5+(\quad)=95$

二、填空题

- 用2个完全一样的正方形可以拼成一个()。
- 用4个完全一样的正方形可以拼成一个()或()。
- 用2个完全一样的平行四边形可以拼成一个()。
- 硬币的面是()，作业本的面是()，红领巾的面是()。
- 是由2个()图形拼成的一个()形。

三、思维训练题

花店一天卖出 35 盆兰花和 9 个花盆,还剩下 6 盆兰花,花店原来一共有多少盆兰花 ?

一年级数学下册课内每日计算小纸条

姓名_____班级_____

一、口算题

$17+20=$

$60+40=$

$36-10=$

$38+4=$

$97-40=$

$88-9=$

$3+7+6=$

$18-4-8=$

$4+8+30=$

$74+(\quad)=84$

$32-(\quad)=12$

二、填空题

- 时针从“2”走到“5”走了()小时。
- 分针从“2”走到“5”走了()分钟。
- 一个数个位是7,十位是5,这个数是(),它与 20 的和是(),与20的差是()。

三、思维训练题

商店里有自行车 83 辆,上午卖出 20 辆,下午卖出 30 辆,还剩多少辆?(4分)

一年级数学下册课内每日计算小纸条

姓名_____班级_____

一、口算题

$18+20=$	$42-10=$	$7+9=$	$16-8=$	$77-7=$	$50+14=$
$67-30=$	$40+8=$	$99-9=$	$88+8=$	$35+40=$	$70-50=$

二、在○里填上“>”“<”或“=”。

$12+7 \bigcirc 19-7$	$32-30 \bigcirc 37-30$	$30+15 \bigcirc 20+25$
$13-7 \bigcirc 15-9$	$78-60 \bigcirc 25-5$	$17-9 \bigcirc 18-9$

三、思维训练题

- 湖边原来有 27 只小船，划走一些，还剩5只。划走了多少只？
- 图书角有 30 本故事书，科技书比故事书少8本。科技书有多少本？

一年级数学下册课内每日计算小纸条

姓名_____班级_____

一、口算题

$35-8=$	$17-9=$	$61+20=$	$2+88=$
$3+59=$	$75-20=$	$44-20=$	$73-70=$
$30+20-10=$	$57-(18-8)=$	$62-(8-4)=$	$23+(46-44)=$

二、填空题

- 8个十去掉3个十是()个十,是()。
- 将下列各数从小到大排列。
52 49 100 87 46 78
() < () < () < () < () < ()
- 4角 3分=()分 10角=()分 100分=()

三、思维训练题

图书角一共有42 本书，其中故事书有 20 本，上午共借出8本，图书角还剩多少本书？

一年级数学下册课内每日计算小纸条

姓名_____班级_____

一、口算题

$$\begin{array}{cccccc} () - 33 = 37 & 10 + () = 45 & 9 + () = 53 & () + 35 = 85 & 90 - () = 63 \\ 91 - () = 83 & () - 13 = 51 & 40 - () = 15 & 50 - () = 20 & () - 21 = 69 \end{array}$$

二、填空题

- 59里面有()个十和()个一。
- 一个加数是 46, 另一个加数是3, 和是()。
- 计算 $80-50$, 可以想()个十减()个十, 得()个十。
- 被减数是 68, 减数是5, 差是()。
- 一个加数是 35, 另一个加数是8, 和是()。

三、思维训练题

李阿姨做了 58件上衣 , 40 条裤子 , 还要做多少条裤子就和上衣的数量一样多?

一年级数学下册课内每日计算小纸条

姓名_____班级_____

一、口算题

$$\begin{array}{cccccc} 20 + () = 24 & () + 21 = 47 & () - 12 = 6 & () + 3 = 39 & 10 + () = 29 \\ 30 + () = 41 & () - 11 = 39 & 90 - () = 19 & () - 47 = 20 & 70 - () = 16 \\ () - 57 = 20 & () - 29 = 41 & 80 - () = 27 & () - 52 = 43 & 39 - () = 15 \end{array}$$

二、填空题

- 分针指向 12, 时针指向3就是 ()。
- 分针指向 6, 时针指在3 和4 中间就是 ()。
- 分针指向 5, 时针指在8和9之间是 ()。

三、思维训练题

1. 果园里有苹果树40 棵, 桃树 30 棵, 梨树和桃树同样多。果园里有果树一共多少棵?

一年级数学下册课内每日计算小纸条

姓名_____班级_____

一、口算题

$$\begin{array}{cccccc} () - 18 = 26 & () + 39 = 51 & 58 - () = 38 & () + 14 = 43 & () + 15 = 73 \\ () + 52 = 83 & 41 + () = 48 & 38 + () = 57 & 18 + () = 21 & 24 - 7 = () \end{array}$$

二、填空题

- 分针指着 10，时针快指向 5，这时是 () 时 () 分。
- 2:10 再过 30 分钟后是 () 时 () 分。

三、思维训练题

舞台上表演节目的有 7 个小孩和 24 个大人，舞台下观看节目表演的有 65 人，舞台上表演节目的有多少人？

一年级数学下册课内每日计算小纸条

姓名_____班级_____

一、口算题

$$\begin{array}{cccc} 98 - () = 85 & 84 - () = 18 & 78 - () = 13 & () - 41 = 34 \\ 59 - () = 11 & () - 8 = 91 & 8 + () = 60 & () - 20 = 63 \\ 30 + () = 90 & () - 5 = 70 & 80 + () = 92 & 26 + () = 39 \end{array}$$

二、填空题

$$\begin{array}{cc} 45 + 3 \bigcirc 3 + 45 & 42 - (10 - 6) \bigcirc 42 - 10 - 6 \\ 77 - 60 \bigcirc 45 + 7 & 78 - 20 \bigcirc 80 - (4 + 5) \end{array}$$

三、思维训练题

爸爸买了一些香蕉，吃了 7 个后还剩 45 个，爸爸一共买了多少个香蕉？

一年级数学下册课内每日计算小纸条

姓名_____班级_____

一、口算题

$$\begin{array}{cccccc} () - 1 = 53 & 42 - () = 26 & () - 32 = 38 & 2 - () = 37 & () - 5 = 17 \\ () - 23 = 36 & 62 - () = 41 & 92 - () = 18 & 43 - () = 39 & () - 64 = 19 \end{array}$$

二、填空题

- 现在时间是上午7时45分，再过（ ）分是8时正。
- 现在的时间是1:57，再过3分是（ ）。
- 下午上课的时间是2:30，明明从家到学校要走 20分钟，明明最慢要（ ）时（ ）分从家里出发。

三、思维训练题

一本故事书共 46页，从前往后数第20 页是智力闯关游戏，如果倒过来数，这个游戏在第几页？

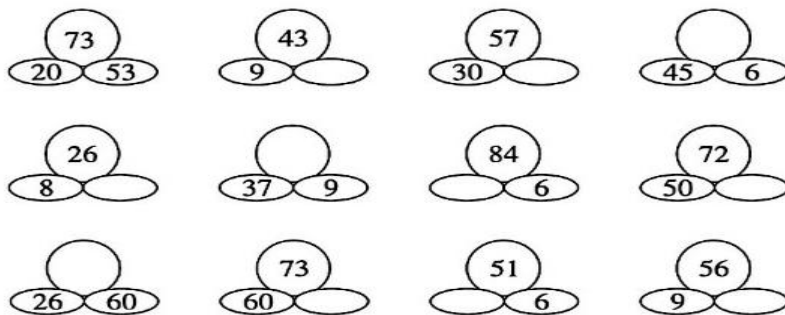
一年级数学下册课内每日计算小纸条

姓名_____班级_____

一、口算题

$$\begin{array}{cccccc} () - 29 = 13 & () - 53 = 19 & () - 28 = 72 & 76 - () = 13 & () - 25 = 20 \\ () - 5 = 16 & () - 9 = 9 & 56 - () = 51 & () + 57 = 78 & 61 + () = 77 \end{array}$$

二、填空题



三、思维训练题

小华给小方 8 枚邮票后，两人的邮票枚数同样多，小华原来比小方多几枚邮票？